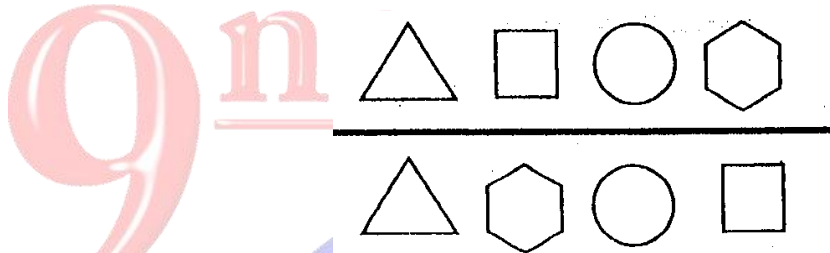


IX OMSIL

OLIMPIADA MATEMÁTICA SAN IGNACIO DE LOYOLA

Nombres y Apellidos:Codigo:

1. En la figura colorea de color rojo el cuadrado que está encima de la línea.



2. Marca con una X lo que tiene el osito en la mano derecha.




3. Completa los números que se olvidaron.



4. Marca con una X al personaje del centro





5. ¿Cuántas manzanas grandes hay encima de la mesa?



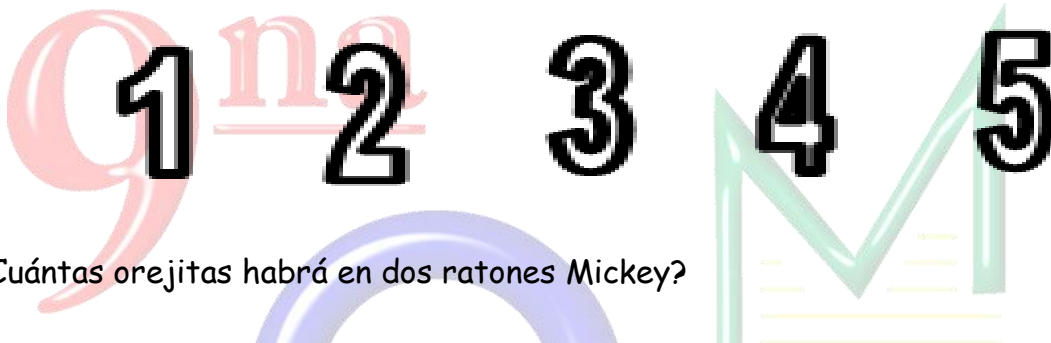
Rpta

6. ¿Cuántos triángulos observas en la siguiente figura?





Rpta

7. Pinta con tu lápiz amarillo el número que se encuentra entre el uno y el tres



8. ¿Cuántas orejitas habrá en dos ratones Mickey?



Rpta

9. ¿Cuántos dedos levantados podemos observar en los dos minions?



Rpta

10. Realizamos la siguiente suma y coloca la respuesta en el cuadrado



Puno 17 de Octubre del 2015



